

KWINT WERKSCHRIFT

Kwint 2 Werkschrift 2


Som 1



Mandy heeft 12 euro in haar spaarpot.
Ze krijgt van opa 6 euro erbij.
hoeveel euro heeft ze nu?

..... euro


Som 2



Marit heeft 20 knikkers.
ze verliest er 16.
hoeveel knikkers heeft ze over?

... knikkers


Som 3



er liggen 17 broodjes in de mand.
Joep en Koen eten er 9 op.
hoeveel zijn er over?

... broodjes


Som 4



in de fles zitten 11 snoepjes.
Maaïke eet er 5 op.
hoeveel zijn er over?

... snoepjes


Som 5



opa heeft nog 4 schroeven in zijn gereedschapskist.
hij koopt er 13 bij.
hoeveel schroeven heeft hij nu?

... schroeven


Som 6



op een ochtend leggen de kippen 4 eieren.
's middags leggen ze 15 eieren.
hoeveel eieren hebben de kippen op die dag gelegd?

... eieren

Som 7




Carin heeft 8 euro.
ze wil een spel kopen voor 17 euro.
hoeveel euro heeft ze te weinig?

... euro




Kwint 3 werkschrift 1

Som 1




Er staan 15 kroppen sla in het tuintje van mijn opa.
De konijnen eten er 6 op. Hoeveel kroppen sla zijn er over? ... kroppen sla

Som 2



Dave heeft 15 euro in zijn spaarpot. Hij koopt voor 8 euro snoep en voor 7 euro een kado voor zijn vriend.
Hoeveel euro heeft hij over? ... euro


Som 3



Er zitten 14 mensen in de bus. Bij de halte stappen er 6 uit en er stappen 9 mensen in.
Hoeveel mensen zitten er in de bus als hij weer wegrijdt? ... mensen




Som 4



Melike heeft 35 postzegels gekocht. Ze gebruikt er 8.
Hoeveel heeft ze nog over?


... postzegels

Som 5



Boer Farouk heeft 83 kilogram eten voor de kippen gekocht.
De kippen eten 13 kilogram op. Hoeveel kilogram is er nog over? ... kilogram

Som 6




Koen had 64 knikkers. Hij wint er 35 bij.
Hoeveel knikkers heeft hij nu?

... knikkers




Som 7




De kippen van boer Farouk hebben vanmorgen 57 eieren gelegd en vanmiddag nog 35. Hoeveel eieren zijn dat samen? ... eieren

Som 8




Joery heeft 30 postzegels gekocht. Hij gebruikt er 15. Hoeveel heeft hij nog over? ... postzegels

Som 9



Het is vandaag 15 december. Mijn moeder is op 29 december jarig. Over hoeveel dagen is mijn moeder jarig? ... dagen

Som 10



Halina heeft vorige maand 75 kilogram eten voor de kippen gekocht.




De kippen hebben al 65 kilogram opgegeten.

Hoeveel kilogram is er nog over?

... kilogram

Kwint 3 werkschrift 2

Som 1




		Hoeveel kaarsjes ? 
5	8	?

Op elke taart moeten 5 kaarsjes komen. Er zijn 8 taarten.

Hoeveel kaarsjes heb ik nodig?

...kaarsjes x ... taarten = ... kaarsjes

Som 2




		Hoeveel eieren heb ik nodig? 
3	4	?

Om een taart te bakken heb je 3 eieren nodig. Moeder wil 4 taarten bakken.

Hoeveel eieren heeft zij nodig?

...eieren x ...taarten = ... eieren

Som 3

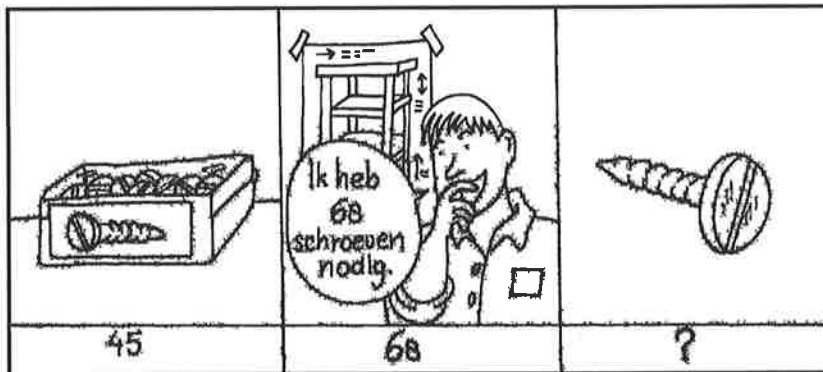
		
35 cent	3	? cent

Een bolletje ijs kost 35 cent.

Wat kosten drie bolletjes ijs?

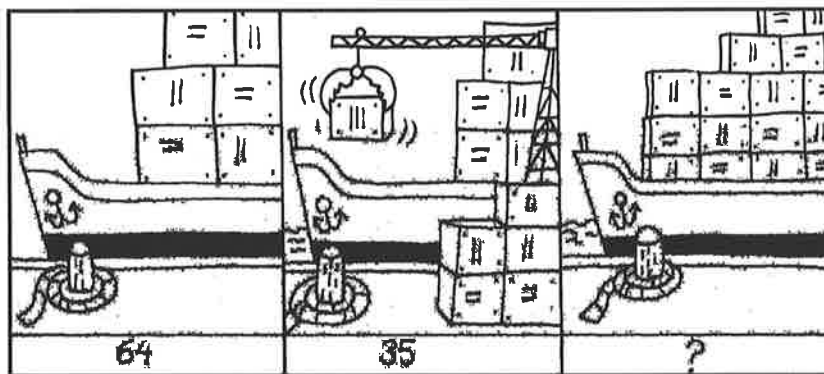
... cent x ... bolletjes = ... cent

Som 4




Mijn vader heeft een doos met 45 schroeven. Hij heeft er 68 nodig.
Hoeveel heeft hij er te weinig? ... schroeven

Som 5



In de haven ligt een schip met 64 containers.
Er komen nog 35 containers bij.
Hoeveel containers staan er in totaal in het schip? ... containers

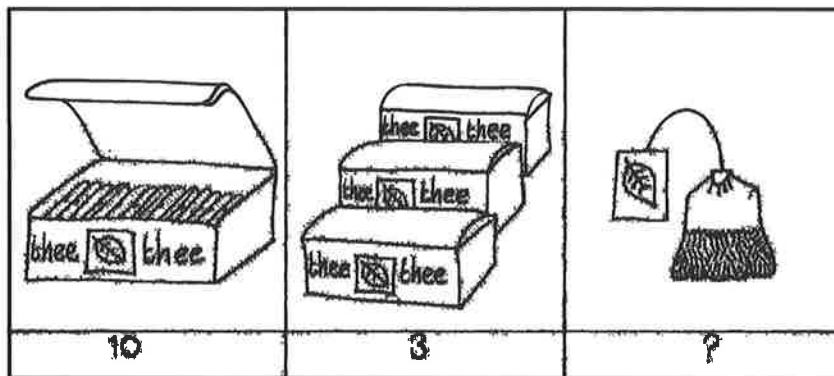
Som 6



In een leeg schip kunnen 75 containers. Er staan er nu 63 in.
Hoeveel kunnen er nog bij? ... containers



Som 7




In een doosje thee zitten 10 zakjes.

In de kast staan 3 doosjes.

Hoeveel theezakjes zijn er?

...zakjes x ... doosjes = ... theezakjes

Som 8

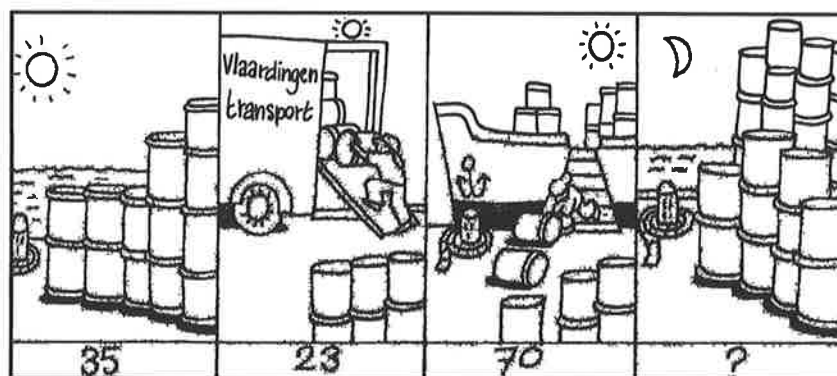


Een schroevendraaier kost € 7. Mijn vader koopt 4 schroevendraaiers.

Hoeveel moet hij betalen?

€ ... x ... schroevendraaiers = € ...

Som 9



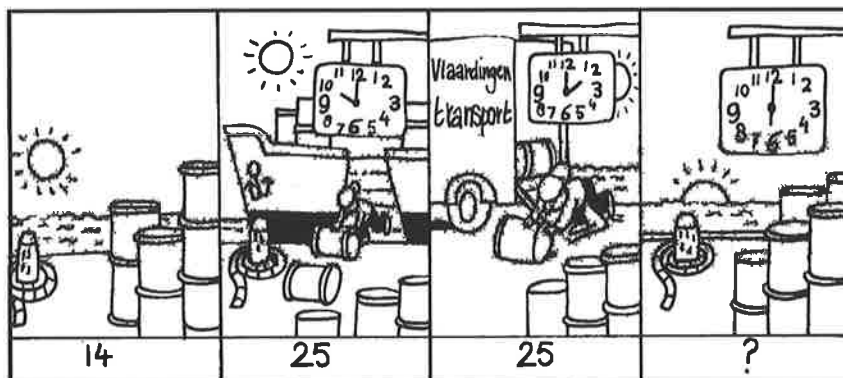
Op dinsdagmiddag staan er 35 tonnen. Een grote vrachtauto neemt er 23 mee voor een bedrijf in Vlaardingen. Daarna worden er nog 70 uit een schip geladen.

Hoeveel tonnen staan er dinsdagavond op de kade?

... tonnen




Som 10



d. Op donderdag om 10 uur staan er 14 tonnen. Vanuit een schip worden er 25 op de kade gezet. Om 2 uur 's middag komen er nog 25 bij. De rest van de dag gebeurt er verder niets. Hoeveel tonnen staan er 's avonds? ... tonnen

Som 11



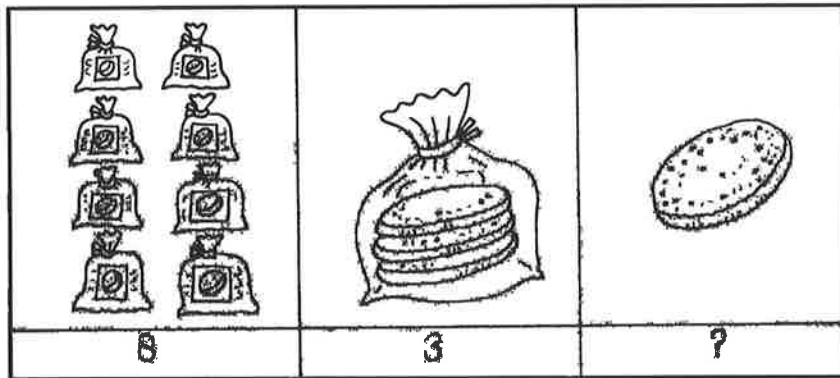
Carlo weegt 36 kilogram. Zijn broer weegt 45 kilogram. Hoeveel wegen ze samen? ... kilogram

Som 12



Een trui kostte eerst € 75. Nu kost hij € 34 euro minder. Hoeveel moet ik betalen? € ...

Som 13

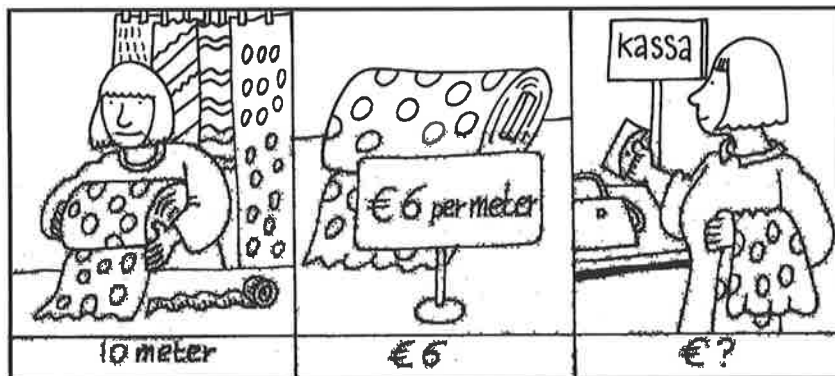


Marcel koopt 8 pakken met elk 3 koeken.

Hoeveel koeken koopt hij?

...pakken x ...koeken = ... koeken

Som 14

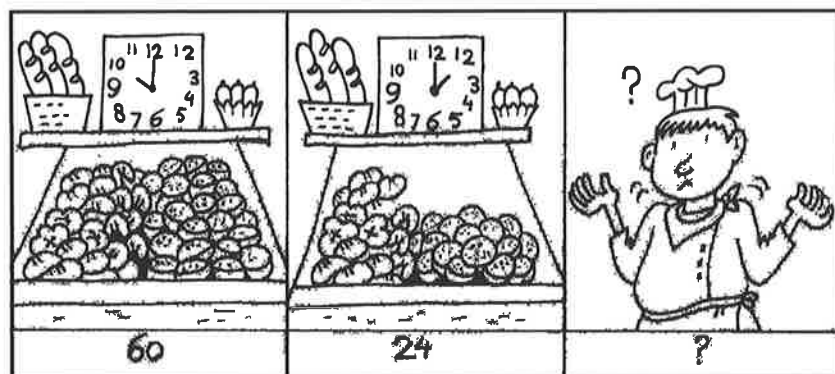


Mijn tante koopt 10 meter gordijnstof. Het kost per meter € 6.

Hoeveel moet zij betalen?

...meter x € ... = € ...

Som 15

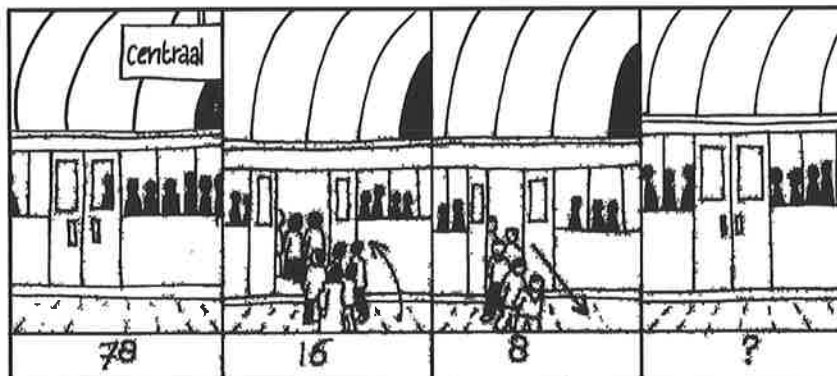


De bakker heeft 's morgens 60 krentenbollen gebakken.

's Middags liggen er nog 24. Hoeveel heeft hij er verkocht?

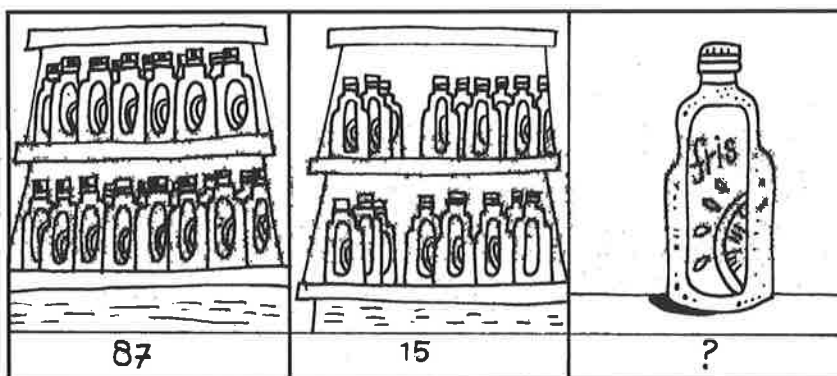
... krentenbollen

Som 16



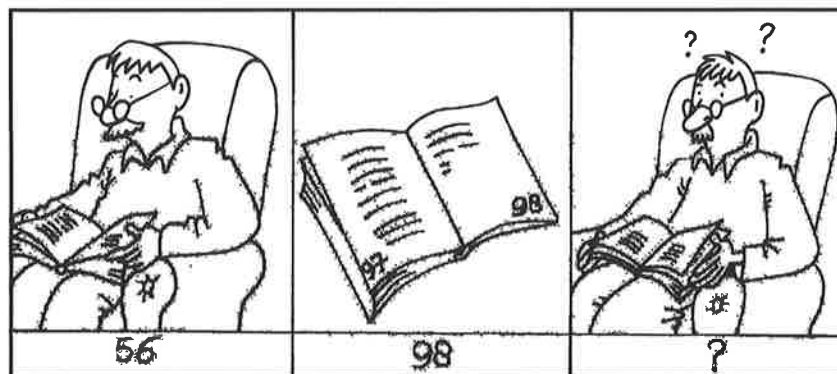
In de metro naar het centraal station zitten 78 mensen.
 Bij het volgende station stappen 16 mensen in en 8 mensen uit.
 Hoeveel mensen zitten er in de metro? ... mensen

Som 17



In de winkel staan 's morgens 87 flessen frisdrank.
 Als de winkel sluit zijn er nog 15. Hoeveel zijn er verkocht? ... flessen

Som 18

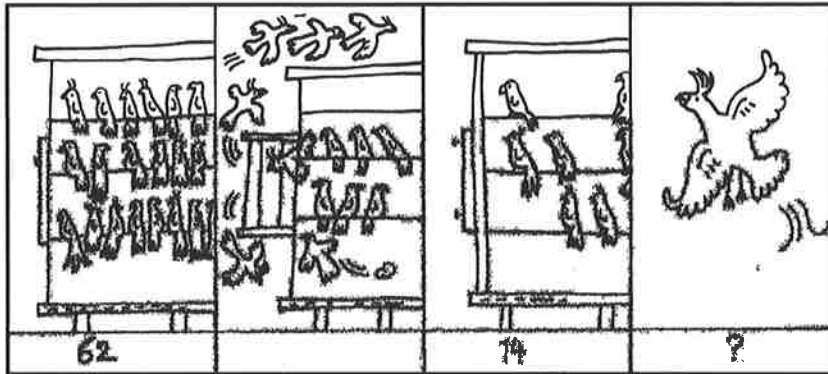


Mijn vader heeft vanochtend 56 bladzijden gelezen.
 Nu is hij op bladzijde 98.
 Hoeveel bladzijden heeft hij gelezen? ... bladzijden



Kwint 4 werkschrift 1

Som 1




Mijn oom had 62 tropische vogels in een grote kooi.
Tijdens een storm waaide 's nachts een van de deurtjes open.
De volgende morgen telde mijn oom nog 14 vogels.
Hoeveel vogels zijn er die nacht weggevlogen? ... vogels

Som 2




An heeft een kat gekregen. In de dierenwinkel koopt An voor
€ 16 kattenvoer, voor € 21 kattenbakkorrels en voor € 56 een kattenbak.
Hoeveel moet ze betalen? € ...

Som 3



Op het meer varen 7 roeiboten. In elke boot zitten 5 kinderen.
Hoeveel kinderen zijn aan het varen? ... kinderen

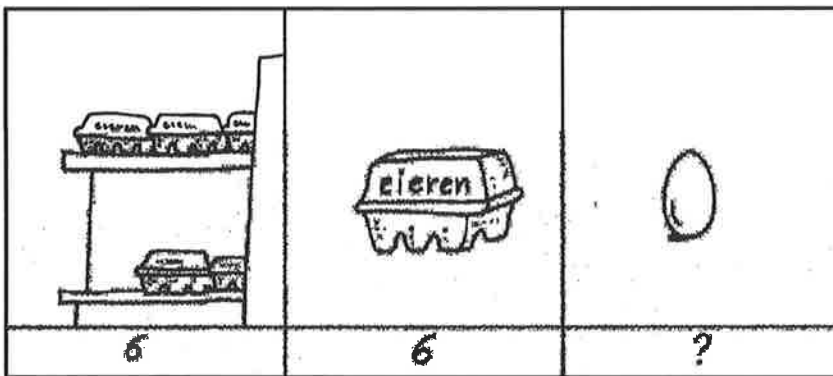
Som 4



In een doosje zitten 4 kaarsen. Ik koop 6 doosjes.
Hoeveel kaarsen zijn dat?

... kaarsen

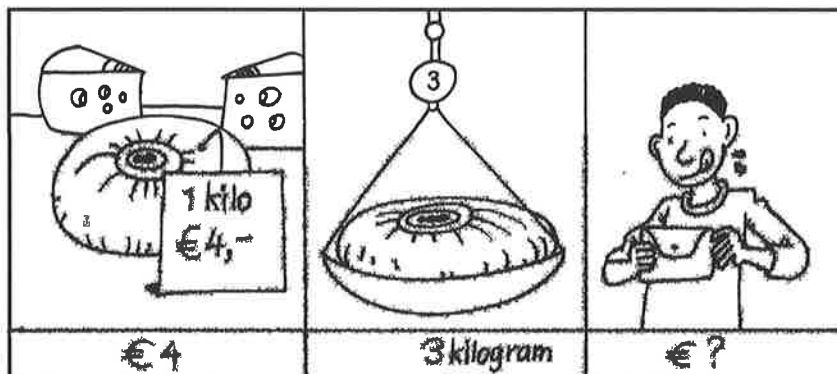
Som 5



In de winkel staan 6 dozen met eieren.
Er zitten 6 eieren in een doos.
Hoeveel eieren zijn er in de winkel?

... eieren

Som 6




Een kilogram kaas kost € 4. Ik koop 3 kilogram.
Hoeveel moet ik betalen?

€ ...

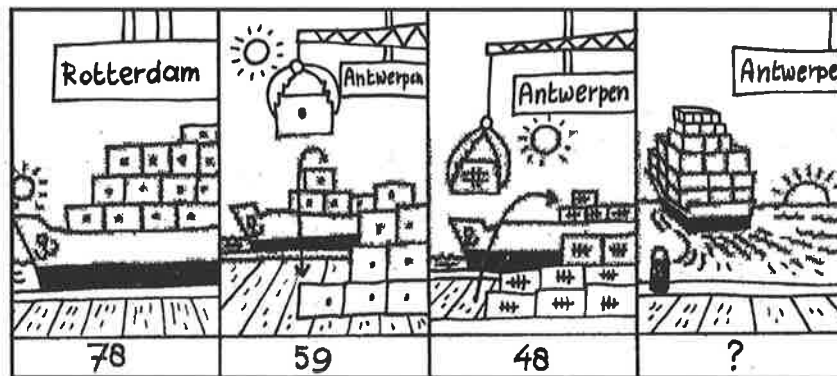


Som 7



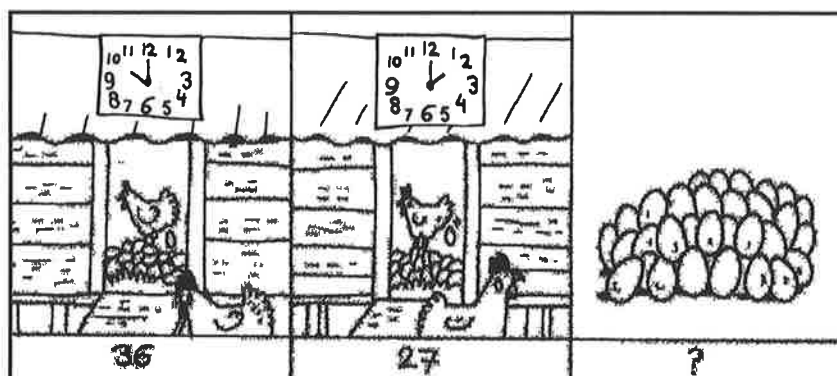
In de metro zitten 65 mensen. Bij het volgende station stappen 37 mensen uit en 48 mensen in.
Met hoeveel mensen rijdt de metro verder? ... mensen

Som 8



Een containerschip in de haven van Rotterdam laadt 78 containers in.
Het schip vaart naar Antwerpen en dan naar Frankrijk. In Antwerpen gaan er 59 containers uit en komen er 48 bij.
Met hoeveel containers vaart het schip naar Frankrijk? ... containers


Som 9



De kippen van boer Farouk hebben 's morgens 36 eieren gelegd en 's middags 27.
Hoeveel eieren hebben ze in totaal gelegd? ... eieren



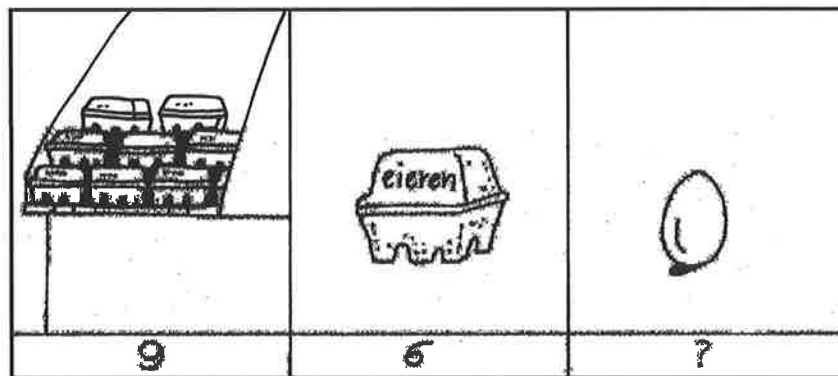
Som 10



Ik ben een boek aan het lezen van 98 bladzijden.
 's Morgens lees ik 16 bladzijden en 's middags nog 9.
 Hoeveel bladzijden moet ik nog lezen?

... bladzijden


Som 11



In de winkel staan 9 doosjes met eieren.
 Er zitten 6 eieren in een doos.
 Hoeveel eieren zijn er in de winkel?

... eieren





Som 12



Een stuk kaas kost € 4.
 Alleen deze week geldt de aanbieding: € 1 goedkoper!
 Hoeveel moet ik betalen voor 6 stukken kaas?

€ ...

Som 13




			
€36	€47	€6	?

Mijn moeder heeft voor mij een trui, een broek en een paar sokken gekocht. De trui kostte € 36, de broek € 47 en de sokken € 6.

Hoeveel moest mijn moeder betalen?

€ ...

Som 14

		
92	78	?

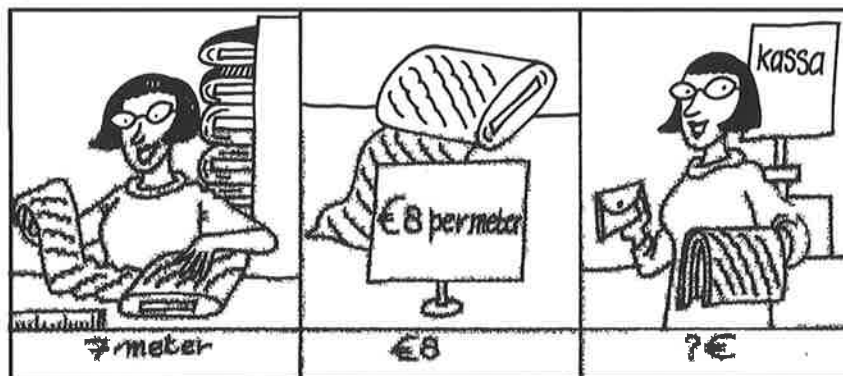
Mijn opa is 92 en mijn oma is 78. Hoeveel jaar verschillen zij?

... jaar



Kwint 4 werkschrift 2

Som 1



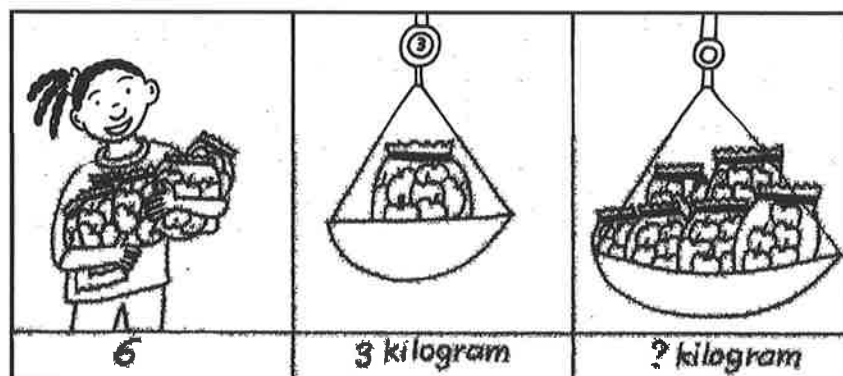
Dineke heeft 7 meter gordijnstof nodig.

De prijs per meter is € 8.

Hoeveel kost het samen?

€ ...

Som 2




Sherly koopt 6 zakken appels. In elke zak zit 3 kilogram.

Hoeveel kilogram appels heeft Sherly gekocht?

... kilogram

Som 3




De bakker verkoopt op een ochtend 37 witte broodjes,

49 bruine bolletjes en 12 krentenbollen.

Hoeveel broodjes heeft hij in totaal verkocht?


... broodjes

Som 4



Mijn tante weegt 78 kilogram. Ze vindt dat ze te zwaar weegt.
 Door minder te eten weegt ze twee maanden later 67 kilogram.
 Hoeveel is mijn tante in twee maanden afgevallen? ... kilogram

Som 5



Lineke maakt een kralenketting. In de kralendoos zitten 97 kralen.
 Ze maakt een ketting van 68 kralen.
 Hoeveel kralen heeft ze nog over? ... kralen

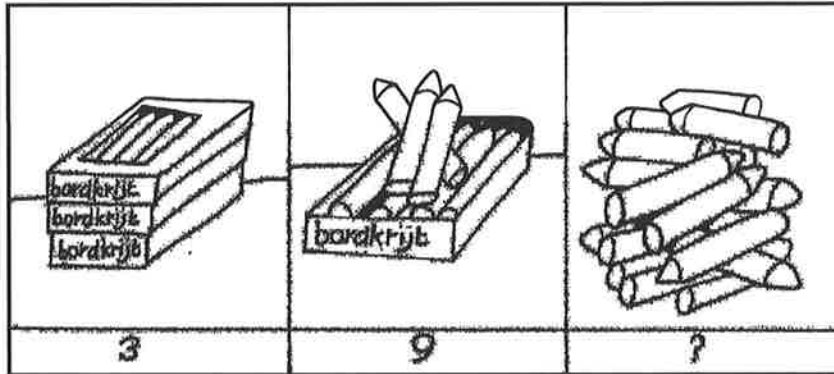
Som 6



Vader Kees en dochter Suze gaan samen een boottochtje maken.
 Voor Suze hoeft vader maar € 12 te betalen.
 Dat is de helft van de prijs.
 Hoeveel moet vader Kees in totaal betalen? € ...



Som 7



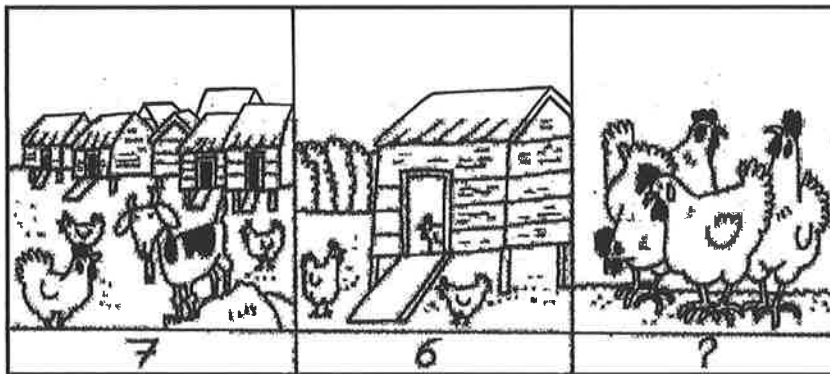
In de klas liggen nog 3 doosjes met krijtjes.

In elk doosje zitten 9 krijtjes.

Hoeveel krijtjes zijn dat bij elkaar?

... krijtjes

Som 8



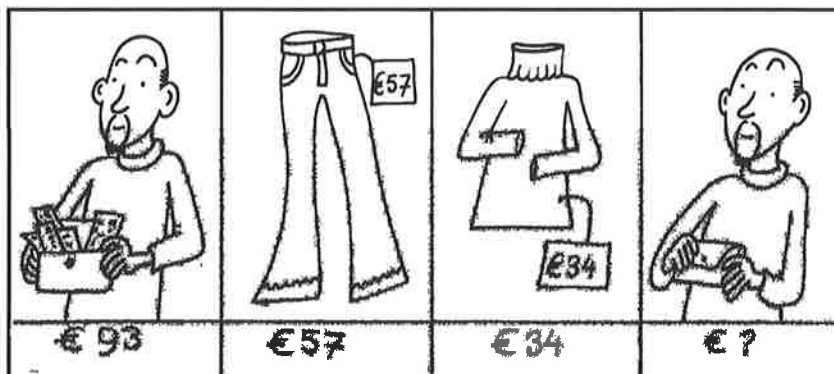
Op de kinderboerderij staan 7 kippenhokken.

In elk hok zitten 6 kippen.

Hoeveel kippen zijn er bij de kinderboerderij?

... kippen

Som 9



Ik heb € 93 in mijn portemonnee. Ik koop een broek van € 57 en een trui van € 34. Hoeveel houdt ik over?

€ ...




Som 10



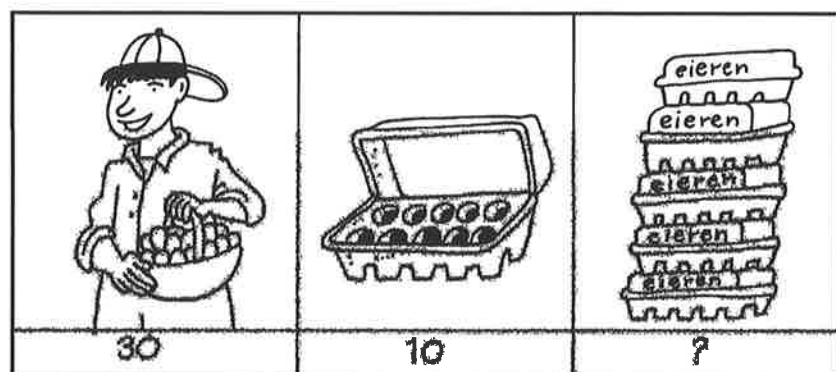
Op vrijdag lees ik 48 bladzijden en op zaterdag 33.
Het boek heeft 98 bladzijden. Hoeveel bladzijden moet ik
op zondag lezen om het boek uit te hebben? ... bladzijden

Som 11



Oma heeft € 10. Ze heeft twee kleinkinderen.
Hoeveel euro krijgt elk kleinkind? € ...

Som 12



Boer Farouk heeft 30 eieren geraapt.
Hij stopt ze in eierdozen van 10.
Hoeveel eierdozen kan hij vullen? ... eierdozen

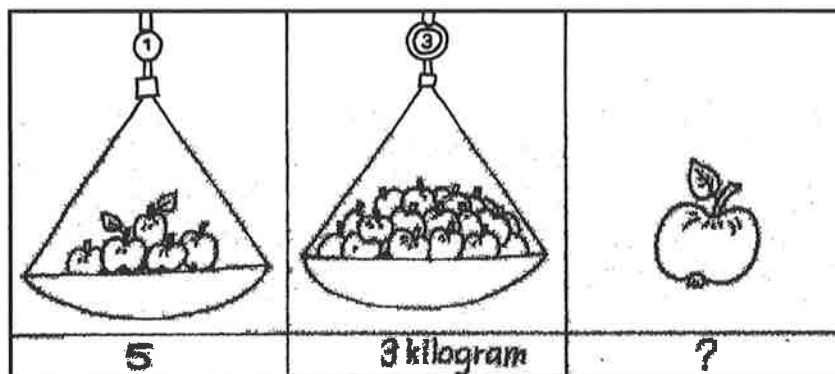


Som 13




Een grote zak friet kost bij de snackbar € 2. Ik koop er 6.
Hoeveel moet ik betalen? € ...

Som 14



In een kilogram appels zitten ongeveer 5 appels.
Ik koop 3 kilogram.
Hoeveel appels heb ik? ... appels


Som 15



Mijn vader is bijna jarig en samen met mijn zus ga ik een
cadeau kopen. Samen hebben we € 71.
Het cadeau dat we willen kopen kost € 57.
Hoeveel geld houden we over? € ...



Som 16



In de trein van Rotterdam naar Utrecht zitten 67 mensen.


Bij Gouda stappen er 48 uit en 72 in.

Met hoeveel mensen komt de trein aan in Utrecht? ... mensen



Kwint 5 werkschrift 1

Som 1a




Opa heeft 12 krentenbollen voor zijn kleinkinderen meegenomen.

Hij heeft 4 kleinkinderen.

Hoeveel krentenbollen krijgt elk kind?

... krentenbollen

Som 1b



Hij heeft ook 24 snoepjes bij zich om uit te delen.

Hoeveel snoepjes zijn er voor ieder kind?

... snoepjes

Som 2




Saskia heeft 24 koekjes. Deze wil ze delen met 3 vriendinnen.

Hoeveel koekjes krijgt ieder? Saskia wil zelf ook koekjes!

... : ... = ...


Som 3



Mehmet heeft 15 knikkers. Er gaan 5 knikkers in een zakje.
Hoeveel zakjes kan hij vullen met knikkers?

... : ... = ...


Som 4



Joris heeft 3 zakjes met 6 knikkers.
Hoeveel knikkers heeft Joris?

... knikkers

Som 5

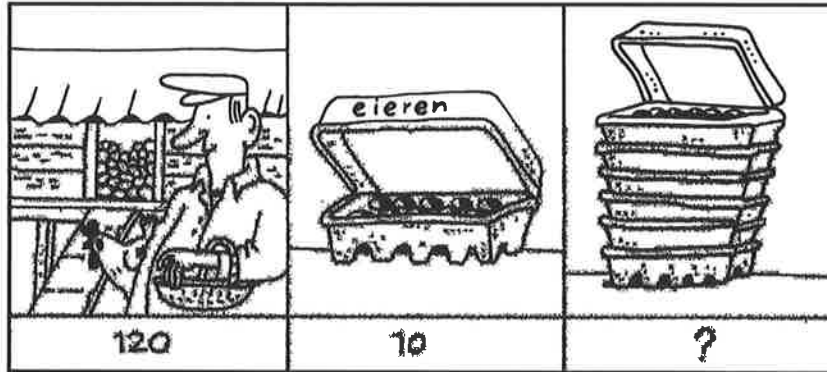


In een zak zitten 6 krentenbollen. Shaima heeft 5 zakken gekocht.
Hoeveel krentenbollen heeft ze gekocht?

... krentenbollen

Kwint 5 werkschrift 2

Som 1



De kippen van boer Hinze hebben 120 eieren gelegd. In een eierdoos passen 10 eieren.
Hoeveel eierdozen heeft boer Hinze nodig? ... eierdozen.

Zo heb ik gerekend:


Som 2



Vader heeft 18 pannenkoeken gebakken. Er eten 4 mensen pannenkoeken.
Hoeveel pannenkoeken kan ieder eten?

Ieder krijgt ... pannenkoeken. Er blijven ... pannenkoeken over.

Som 3




Jennifer heeft 13 snoepjes. Ze wil ze verdelen over 2 vrienden.

Hoeveel snoepjes krijgt ieder?

Ieder krijgt ... snoepjes. Er blijven ... snoepjes over.

Som 4




Ik ben aan het sparen voor een computer van € 572.

Ik heb € 87. Hoeveel euro moet ik nog sparen?

€ ...

Som 5

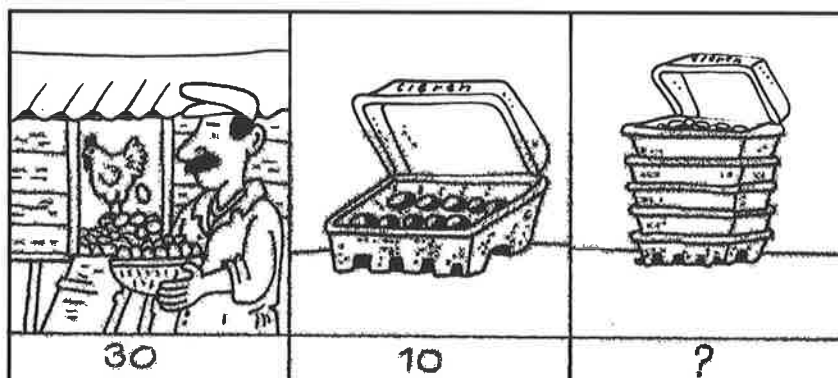


Het kwartetspel heeft 24 kaartjes. We spelen het spel met 4 kinderen.

Hoeveel kaartjes krijgt ieder?

... kaartjes

Som 6

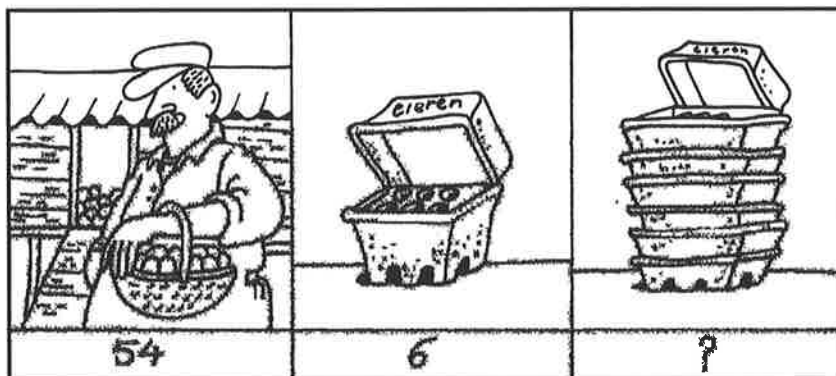


Boer Farouk heeft 30 eieren geraapt. Hij stopt ze in eierdozen waar 10 eieren in kunnen.

Hoeveel eierdozen kan hij vullen?

... eierdozen

Som 7



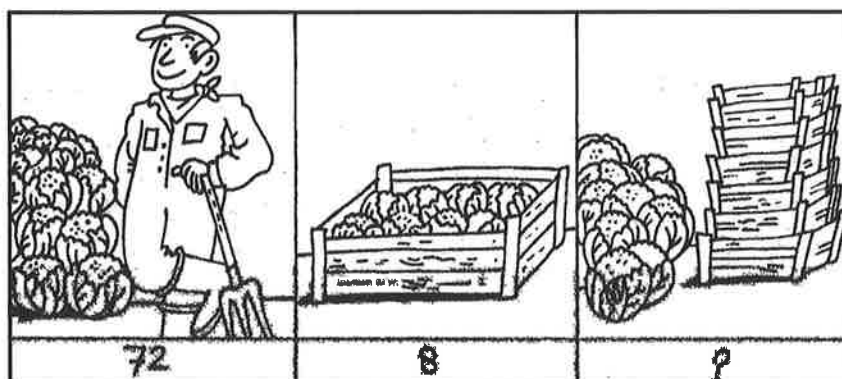
De kippen van boer Farouk hebben 54 eieren gelegd.

Boer Farouk stopt ze in doosjes van 6.

Hoeveel doosjes kan hij vullen?

... doosjes

Som 8



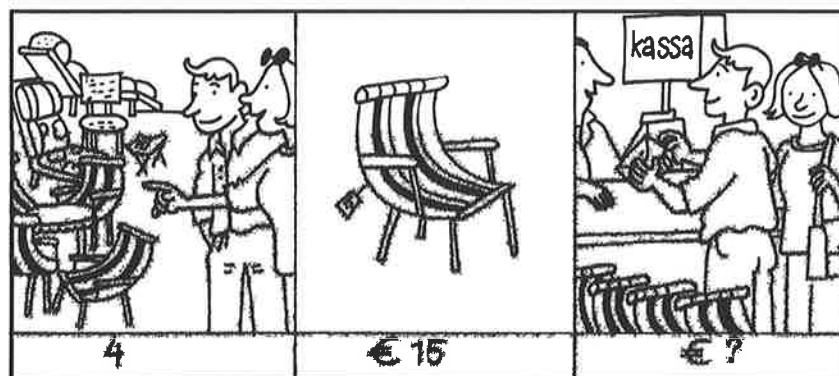
Een boer heeft 72 bloemkolen geoogst.

Hij doet ze steeds met 8 tegelijk in een kist.

Hoeveel kisten kan hij vullen?

... kisten

Som 9



Onze burens kopen 4 nieuwe tuinstoelen.

Per stuk zijn ze € 15.

Hoeveel moeten ze betalen?

€ ...